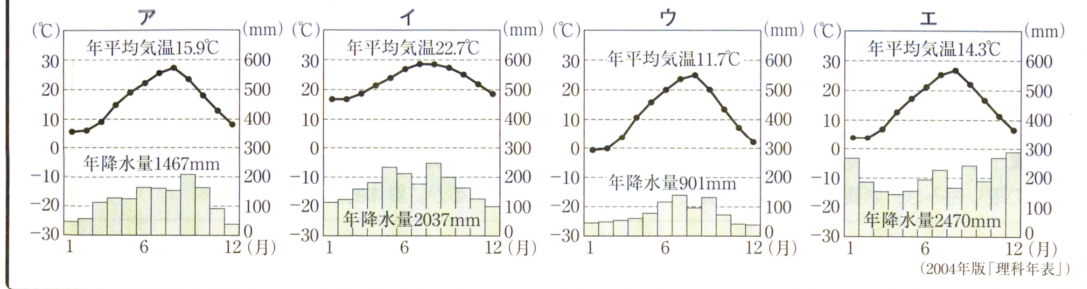


資料を使った問題

例題 次のア～エのグラフは、長野、東京、金沢、那覇^{なは}のいずれかの都市の気温と降水量の変化を表している。これらのうち、長野市の気温と降水量の変化を表しているものはどれか。記号で答えなさい。



STEP 1

気温と降水量のグラフを使う問題は、入試では頻出されているので、各気候帯のグラフの特色を整理して覚えておこう

STEP 2

- ①入試でよく出題されるのが、「日本海側の気候」。この気候の特色は、北西風の影響で冬に雪がたくさん降ることから冬の降水量が多いこと。グラフの12月、1月、2月に注目すればすぐに理解できる。
- ②つぎに分かりやすいのは「南西諸島の気候」で、ここだけは亜熱帯気候に属している。1年中気温が高く、降水量が多いのも特徴である。
- ③気をつけておきたいのは「内陸性の気候」で、夏と冬の気温差が大きく、季節風の影響を受けにくいので降水量が少ないことが特徴。
- ④南東からの季節風の影響を受けているのが「太平洋側の気候」。夏の気温が高く、降水量も多い。冬は降水量が少なく乾燥することが多い。

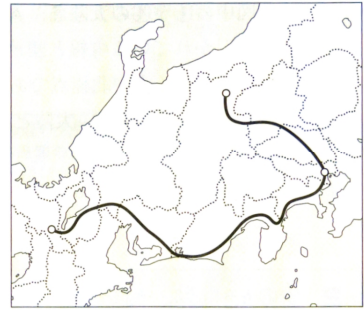
STEP 3

以上より、アが太平洋側の気候、イが南西諸島の気候、ウが内陸性の気候、エが日本海側の気候となる。
よって、長野のグラフは、ウ となる。

長野市に住む春男さんの家族が、ホームステイをしているアリさんと、右の地図のように鉄道を利用して旅行に出かけ、京都市に来た。7 地方区分で見たとき、春男さんたちが通った地方を、次のア～キからすべて選び、記号で答えなさい。

(長野)

- ア 九州地方 イ 関東地方 ウ 近畿地方 エ 東北地方
オ 中国・四国地方 カ 中部地方 キ 北海道地方



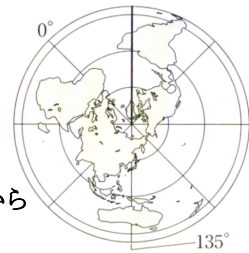
[イ、ウ、カ]

長野→群馬→埼玉→東京→神奈川→静岡→愛知→岐阜→滋賀→京都の順になっているので、中部地方、関東地方、近畿地方となる。

右の地図中の —— で示した経線は何度を示しているか。東経、西経のいずれかをつけて書きなさい。

(大阪)

[西経45度]



経線が 45度 ずつ引いてあることと、日本とは反対の方角に引かれているから 西経 となることが分かる。

下線部①に関して、図1は北海道、栃木県、東京都、宮崎県について、耕地面積、大麦の収穫量、ピーマンの収穫量、乳用牛の飼育頭数と、それぞれの全国順位とをまとめたものである。栃木県はア、イ、ウ、エのどれか。

	耕地面積 (2005年)		大麦 (2005年)		ピーマン (2004年)		乳用牛 (2006年)	
	(百 ha)	順位	(t)	順位	(t)	順位	(頭)	順位
ア	1690	1	7630	6	7040	6	6100	1
イ	1300	10	5830	1	241	40	58400	2
ウ	702	22	72	30	33600	1	20000	15
エ	83	47	4	38	189	42	2600	44

図1 (「県勢」により作成)

各項目の最高値に○、最低値に△をつけて、特徴的な部分を見つけよう。

- 耕地面積が一番広く、乳用牛が一番多いのは・・・北海道
- 大麦の収穫量が一番多いのは・・・栃木県
- ピーマンの収穫量が一番多いのは・・・宮崎県
- その他が東京都となる

正解は イ

略年表を見て、1から5までの問いに答えなさい。

- 1 Aについて、鉄砲を伝えたのはヨーロッパのどの国の人か。
- 2 ①の時期において徳川家康のおこなった貿易政策とその影響について、「朱印状」と「日本町」の二つの語を用いて簡潔に書きなさい。
- 3 次の文中の□に当てはまる人物はどれか。

年代	できごと
1543	種子島に鉄砲が伝来する……………A
1639	鎖国が完成する……………B
1858	日米修好通商条約が結ばれる……………C
1904	日露戦争がおこる……………D
1945	ポツダム宣言を受諾する……………E
1951	サンフランシスコ平和条約が結ばれる……………F

- Cの後、大老の□は尊皇攘夷そんのうじょういをとなえる大名や公家くげ、武士を処罰したが、かえって幕府に対する反感が強まり、江戸城の桜田門外で殺された。
- ア 田沼意次おきつぐ イ 井伊直弼なおすけ ウ 松平定信 エ 水野忠邦
- 4 Dのころのわが国の様子を述べているのはどれか。
 - ア 製糸や紡績の官営工場が各地につくられ、殖産興業がはかられた。
 - イ 問屋制家内工業が発達し、分業による工場制手工業も出現した。
 - ウ 国家の財政基盤を確立するために、地租改正が実施された。
 - エ 鉄鋼や造船などの部門を中心に、重工業が発達した。
 - 5 ②の時期におけるわが国のできごとはどれか。
 - ア 日中平和友好条約が結ばれた。 イ 労働組合法が制定された。
 - ウ 公害対策基本法が制定された。 エ 沖縄が返還された。

<解答>

- 1 ポルトガル
- 2 (例)徳川家康は朱印状を与えて貿易を保護した。これに伴って多くの日本人が海外へ移住し、東南アジア各地に日本町がつくられた。
- 3 イ 4 エ 5 イ

2は、「朱印状」が許可証であることに注意。また、「日本町」がどの地域につくられたのかを必ず書くようにしよう。

※年表を用いた問題は必ずといっていいほど出題される。

単に語句の記憶だけでは答えられないものもあるので、前後関係やその時代の中心人物などに関連させて覚えるようにしよう。

略年表を見て、次の1から5までの問いに答えなさい。

年代	できごと
701	大宝律令が定められる…………… A
794	都を京都(平安京)に移す……………
935	平将門の乱がおこる…………… (a)
1192	源頼朝が征夷大將軍になる…………… (b)
1467	応仁の乱がおこる……………
1603	徳川家康が征夷大將軍になる…………… (c)
1841	天保の改革がはじまる…………… B

1 Aについて、次の文中の [I], [II] に当てはまる語を書きなさい。

この律令により、人々には税や^{ろうえき}労役など多くの負担が課された。税には、きまった量の稲を納める租、特産物などを納める [I], 労役のかわりに布などを納める [II] があった。

2 (a)の時期、朝廷の軍を率いて、^{えみし}蝦夷の指導者であるアテルイ(阿弭流為)を降伏させた人物はどれか。

- ア 卑弥呼 イ 坂上田村麻呂
- ウ 北条泰時 エ 織田信長

3 図は、(b)の時期につくられた、ある建物の内部である。金や馬などの産物によって栄えた豪族の藤原氏が、浄土へのあこがれから平泉の中尊寺につくったこの建物を何というか。



図

4 (c)の時期の農業について述べているのはどれか。

- ア 土地を深く耕せる備中^{びっちゅうぐわ}鋤が^{いわし}発明され、干した鱒や油かすが肥料に使われた。
- イ 大陸から稲作が伝えられ、稲をたくわえるための高床の倉庫がつくられた。
- ウ 生糸の輸出が増加し、養蚕がさかんになり、桑畑が増えた。
- エ かんがいの技術や牛馬による農耕がすすみ、米と麦の二毛作が広まった。





5 Bについて、この改革で老中水野忠邦が行った、農村を復興させるための政策の内容と、物価を下げるための政策の内容を、次の欄に示した書き出しに続けてそれぞれ簡潔に書きなさい。

[農村を復興させるため]
[物価を下げるため]

- <解答> 1 I. 調 II. 庸 2 イ
- 3 (中尊寺) 金色堂 4 エ
- 5 例：[農村を・・・] 江戸に働きに来ている農民を村に帰らせた。
(出かせぎに来ている)
- 例：[物価を・・・] 株仲間を解散させた。

5

1 秋雄さんは、いろいろな時代の人や物の往来について興味をもち、下のA～Dのようなかるたをつくりました。A～Dを時代の古い順に並べかえ、記号で答えなさい。(山形)

<p>A</p>  <p>〈取り札〉</p>	<p>B</p>  <p>〈読み札〉</p>	<p>C</p>  <p>〈読み札〉</p>	<p>D</p>  <p>〈読み札〉</p>
<p>蔵屋敷 保管していた 年貢米</p>	<p>唐からの 宝物も入れた 正倉院</p>	<p>西洋の 文化を伝えた 南蛮人</p>	<p>合い札を 使って始めた 勘合貿易</p>

STEP 1

古い順に並べる問題は毎年出題される形式。カードやカルタなどに書かれているキーワードを見つけて時代を確定しよう。

STEP 2

この設問では・・・

A・・・蔵屋敷→→→年貢米を納めていることから・・・江戸時代

B・・・正倉院→→→東大寺にある聖武天皇の日用品などを収めた倉・・・奈良時代

C・・・南蛮人→→→ポルトガルやオランダと交易をしているので・・・安土桃山時代

D・・・勘合貿易→→→明との貿易のための合い札。足利義満のとき・・・室町時代

が、各時代を確定するためのキーワードとなる。

STEP 3

よって解答は・・・ B、D、C、A の順。

6

図2は、東京都、新潟県、長野県、愛知県の、面積、人口、米の生産量、漁獲量、工業生産額を示している。愛知県に当てはまるのはどれか。

	面積	人口	米の生産量	漁獲量	工業生産額
ア	○ 13585km ²	△ 220万人	22.9万t	△ 0.4万t	70944億円
イ	5157	696	16.3	10.4	○ 346041
ウ	12582	247	○ 65.5	5.1	△ 47390
エ	△ 2187	○ 1191	△ 0.1	○ 13.7	183877

図2 「住民基本台帳人口要覧」,「農林水産統計速報」ほかにより作成

各項目の最高値に○、最低値に△をつけて、特徴的な部分を見つけよう。
この表では、面積以降に書かれている4項目で判断できる。

「人口」について最も多いのは東京都なので・・・エ

「米の生産量」ではこの4都県で最も多いのは新潟県だから・・・ウ

「漁獲量」は最も少ないものに注目してみよう。長野県は海に面していないことから・・・ア

「工業生産額」が最も多いのは、愛知県を含む中京工業地帯なので・・・イ

正解：イ

図2は、栃木県と群馬県の農業に関するさまざまな統計(2005年)をまとめたものである。図2から読みとれることを正しく述べているのはどれか。

県名	総面積	耕地面積	総人口	農業就業人口	農家総数	農業総産出額
栃木県	6408(km ²)	1300(百ha)	2017(千人)	96(千人)	715(百戸)	2741(億円)
群馬県	6363	785	2024	72	625	2200

図2 「県勢」ほかにより作成

- ア 栃木県は群馬県より、総面積に占める耕地面積の割合が低い。
- イ 栃木県は群馬県より、総人口に占める農業就業人口の割合が高い。
- ウ 栃木県は群馬県より、農家一戸あたりの耕地面積が狭い。
- エ 栃木県は群馬県より、農業就業者一人あたりの農業総産出額が多い。

※ 表やグラフの読み取りでは、実数(生産額、総人口など)と割合の違いに気をつけて選択するようにしよう。

割合については、概数でかまわないので計算してみよう。

右の表は、1970年から10年ごとの、勤労者1世帯あたりの消費支出額と消費支出の費目別割合を示している。表から読み取れることを正しく述べているものを、次のア～エから1つ選び、記号で答えなさい。

	消費支出額 (月平均)	食料費	住居費	光熱・ 水道費	被服・ 履物の 費	交通・ 通信費	教育費	教 養 娯楽費	その他
1970年	→82,582円	○32.2%	5.3%	4.1%	9.3%	5.5%	2.7%	9.2%	31.7%
1980年	238,126	27.8	4.7	5.3	7.5	8.5	3.6	8.5	34.1
1990年	331,595	24.1	5.0	5.1	7.2	10.1	5.1	9.6	33.8
2000年	→340,977	○22.0	6.4	6.2	5.0	12.8	5.3	9.9	32.4

(栃木)

〔「国民生活白書」〕

ア 消費支出額は、1970年から2000年の間に、5倍以上に増えた。

イ 2000年の食料費の額は、1970年と比べて少なくなった。

ウ 被服・履物費の割合は、いずれの年も、教育費の割合を上回っている。

エ 1970年と2000年とを比べると、割合が最も増えたのは交通・通信費である。

※選択肢は、実数と割合の区別をつけて考えよう。

ア $340000 \div 82500$ より、消費支出は約4倍

イ 2000年は 340977×0.22 より約75000円、1970年は 82582×0.322 より約27000円

ウ 1970年、1980年、1990年は被服・履物が上回っているが、2000年は教育費が上回っている。

エ $12.8\% - 5.5\% = 7.3\%$ 増えている。

図2は、秋田県、神奈川県、岐阜県、三重県の、コンビニエンスストア、スキー場、海水浴場の数を示している。三重県に当てはまるのはどれか。

県	コンビニエンス ストア(2004年)	スキー場 (2007年)	海水浴場 (2007年)
ア	○ 3037店	3か所	28か所
イ	655	42	△ 0
ウ	457	1	27
エ	434	○43	20

図2 (「県勢」により作成)

※各県の地域性を考えてみよう。

ア 最もコンビニが多いのは首都圏の、神奈川県

イ 海水浴場がないのは海に面していない県なので、岐阜県

ウ 温暖多雨な気候で、雪があまり降らないためにスキー場が少ないから、三重県

エ スキー場が多く、海水浴場も多いのは、新潟県

解答：ウ

8

のぞみ

希望さんが、人工衛星を保有する国について調べたところ、その多くはわが国の主な貿易相手国であることがわかった。そこで希望さんは、このうちの6か国に関して、わが国の主な輸入品について調べ、**図3**にまとめた。さらに、輸入品を大きく二つに分類し、それをもとに、この6か国を**図4**のように分けた。**図3**、**図4**を見て、**Aグループ**と**Bグループ**のそれぞれの特徴を簡潔に書きなさい。

国名	わが国の主な輸入品(金額上位3品目)とわが国の輸入総額(各国ごと)に占める割合(%) (2005年)					
アメリカ	機械類	32.2	航空機類	6.5	精密機械	6.2
オーストラリア	石炭	32.5	鉄鉱石	12.5	液化天然ガス	11.9
カナダ	木材	13.7	肉類	11.9	石炭	8.5
イタリア	衣類	16.1	機械類	13.5	バッグ類	11.2
イギリス	機械類	23.5	医薬品	17.7	自動車	12.5
ブラジル	鉄鉱石	30.3	肉類	18.2	アルミニウム	9.5

Aグループ	Bグループ
アメリカ	オーストラリア
イタリア	カナダ
イギリス	ブラジル

図4

図3 (「日本国勢図会」により作成)

解答例：Aグループからは、工業製品を中心に輸入し、Bグループからは、原材料や食料を輸入している。

Aは、機械類、衣類、医薬品、精密機械などの工業製品、Bは石炭、鉄鉱石、木材、肉類などの原材料や食料品に注目しよう。

グループ分けされていなくても、例えばアメリカとオーストラリアの輸入品の特徴については図を読み取れるようにしておこう。

輸出入品目の問題では、ほとんどが「原材料」の輸入に注目だ。

図2は、石油の国内消費量、輸入量、産出量それぞれの世界上位5か国(2006年)を示したものであり、[]内の数字はそれぞれの国の1人当たりの石油消費量を示している。図2のア、イ、ウ、エはインド、中国、日本、アメリカのいずれかである。このうち日本はどれか。なお、同じ記号は同じ国名を示す。

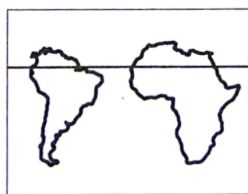
国名	国内消費量	国名	輸入量	国名	産出量
ア	82300万t [2.8t]	ア	53785万t	サウジアラビア	45895万t
イ	29080 [0.2]	ウ	19781	ロシア	45776
ウ	19408 [1.5]	イ	14518	ア	25326
エ	11172 [0.1]	韓国	11989	イラン	20120
ドイツ	10897 [1.3]	エ	11086	イ	18477

図2 (「世界国勢図会」により作成)

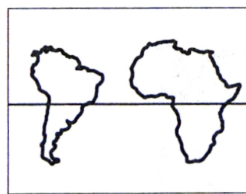
最も石油の国内消費量が多く、産出量も多いのは「アメリカ」
産出量がほとんどなく、輸入量がアメリカに次いで多いのが「日本」

解答：イ

次のア、イ、ウ、エのうち、南アメリカ大陸、アフリカ大陸、赤道の位置関係を正しく表しているものはどれか。



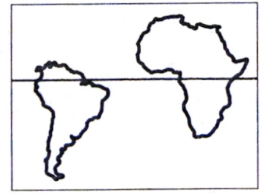
ア



イ



ウ



エ

※「赤道」を選択する問題は頻繁に出題されるので要注意！

図3の地形図で示された地域において、台地の部分と低地の部分では、それぞれ農地は主にどのように利用されているか、簡潔に書きなさい。

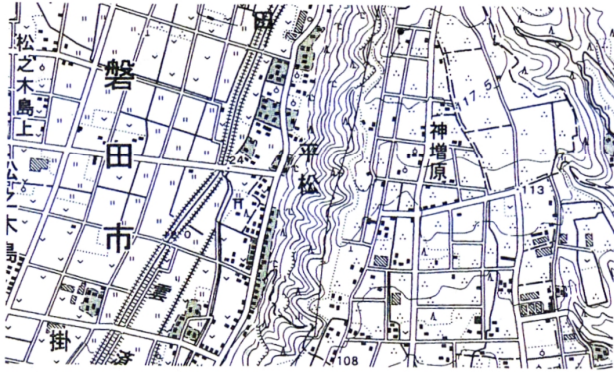


図3 (国土地理院発行2万5千分の1地形図により作成)

解答例：台地では主に茶畑に利用され、低地では主に田や畑に利用されている。

※地形図に示されている河川の西部と東部に注目しよう。西部の地域は低地になっており、田や畑が広がっている。また、東部の地域は等高線から判断すると台地になっていて、茶畑が広がっていることが分かる。

下線部①について、図3は、日本、イタリア、フランス、イギリスの、全人口に占める高齢者（65歳以上）の割合の推移と今後の予測を示している。図3から読みとれる、4か国に共通する傾向と、ヨーロッパの3か国と比較した日本の特徴を、それぞれ簡潔に書きなさい。

	日本	イタリア	フランス	イギリス
1980年	9.1%	13.1%	14.0%	15.1%
1990年	12.0	15.3	14.0	15.9
2000年	17.3	18.1	16.0	15.9
2010年	22.5	20.6	16.5	16.4
2020年	27.8	23.7	20.3	18.6

図3 (「世界国勢図会」により作成)

解答例：4か国とも高齢者の割合が年々増加し、日本はヨーロッパの国々よりも高齢化の進行が早い。

11

図3は、日本の貿易品の輸送方法のうち、航空輸送の占める割合(2006年)を貿易品1kg当たりの価格帯に分けて示している。図4は、日本の輸出入における航空輸送量と船舶輸送量の推移を示している。図3から読みとれる輸出入に共通した航空輸送の特徴と、図4から読みとれる1980年から2008年にかけての航空輸送量の変化の特徴を、「価格」と「増加率」の二つの語を用いて簡潔に書きなさい。

貿易品1kg当たりの価格	輸出における航空輸送の割合(%)	輸入における航空輸送の割合(%)
30000円以上	85.4	93.4
10000～29999円	60.8	75.1
5000～9999円	41.0	51.7
3000～4999円	25.1	36.4
2000～2999円	14.4	28.9
1000～1999円	11.2	18.6

図3 (「国際貿易と投資」により作成)

	1980年 (千t)	1990年 (千t)	2000年 (千t)	2008年 (千t)
航空輸送量	219	620	1188	1314
船舶輸送量	682129	769727	889737	970091

図4 (「日本国勢図会」により作成)

解答例：1kgあたりの価格が高いものほど航空輸送の割合が高く、航空輸送量の増加率は船舶輸送量に比べて大きい。

下線部㊟に関して、Aさんは、アメリカ、日本、中国について、石油消費量の変化と、世界の石油消費量に占める割合の変化とを調べ、図2のようにまとめた。図2から読みとれる、アメリカや日本と比較した中国の変化の特徴を、「増加率」と「割合」の二つの語を用いて書きなさい。

国名	1985年		2004年	
	消費量 (百万t)	割合 (%)	消費量 (百万t)	割合 (%)
アメリカ	737	26.2	947	25.0
日本	204	7.2	255	6.7
中国	93	3.3	311	8.2
世界計	2815	100.0	3791	100.0

図2 (「エネルギー・経済統計要覧」により作成)

解答例：中国は、消費量の増加率が大きく、世界の消費量に占める割合も増加している。

【例題】 右の絵は、下のA～Eのどの法令とどの法令が出された間におこったできごとを描いたものか。次のア～エから1つ選び、記号で答えなさい。

(秋田)



(蒙古襲来絵詞)

- ア AとBの間 イ BとCの間
 ウ CとDの間 エ DとEの間
- A 一、武士が二十年の間、実際に土地を支配しているならば、その権利を認める。 (「御成敗式目」より)
- B 一、御家人以外の武士や庶民が御家人から買った土地は、売買後の年数にかかわらず、返さなければならぬ。 (「永仁の徳政令」より)
- C 一、朝倉館のほか、国内に城をかまえてはいけない。 (「朝倉孝景条々」より)
- D 一、この町全体を楽市にお命じになられたからには、いろいろな座の制約や税をかけることなどは、全部免除する。 (「定安土山下町中」より)
- E 一、諸国の百姓が刀やわきざし、弓、やり、鉄砲、そのほかの武具などを持つことは、かたく禁ずる。 (「刀狩令」より)

STEP 1

絵のできごとは、鎌倉時代に起きた「元寇」である。

文章中に書かれている法令が、どの時代でだれに関わってくるのかを特定できることが重要ポイントになる。

STEP 2

この設問では・・・

- A・・・「御成敗式目」→→→執権北条泰時が裁判の基準を示した法令・・・鎌倉（前期）
- B・・・「永仁の徳政令」→→→元寇後の御家人が生活に困窮したために救済措置として出された法令・・・鎌倉（後期）
- C・・・「朝倉孝景条々」→→→戦国大名の朝倉氏が領国の支配のために出した「分国法」である。
 ・・戦国時代
- D・・・「楽市・楽座令」→→→織田信長が安土城下の商工業を育成するために出した法令
 ・・安土桃山時代
- E・・・「刀狩令」→→→豊臣秀吉が兵農分離政策を打ち出し、農民の一揆の防止のために出された法令・・・安土桃山時代

が、各時代を確定するためのポイントとなる。

STEP 3

解答：ア

13

次の表や写真は、洋子さんが社会科の自由研究で、明治から昭和にかけての選挙権の拡大についてまとめたものである。写真は、どの衆議院議員総選挙の、投票のようすを撮ったものであると考えられるか。適切なものを表中のA～Eから1つ選び、記号で答えなさい。また、そのように判断した理由を、簡潔に書きなさい。

(徳島)

	おもな衆議院議員総選挙の実施年	年齢条件	納税条件	総人口に占める有権者の割合
A	1890(明治23)	25歳以上	直接国税15円以上	1.1%
B	1902(明治35)	25歳以上	直接国税10円以上	2.2%
C	1920(大正9)	25歳以上	直接国税3円以上	5.5%
D	1928(昭和3)	25歳以上	なし	19.8%
E	1946(昭和21)	20歳以上	なし	48.7%

**STEP 1**

写真に、女性が写っていることに注目しよう！

STEP 2

※選挙権の拡大については入試に頻出されるので選挙資格等をよく覚えておこう。

A・・・制限選挙→有権者は直接国税15円以上を納める25歳以上の男子

D・・・1925年に普通選挙法が制定されてから最初の国政選挙となった。25歳以上のすべての男子に選挙権が与えられた。しかしこのときはまだ女性に選挙権がなかった。

E・・・1945年に現在の選挙資格になり、20歳以上の男女に選挙権が与えられた。

STEP 3

解答：E

理由→女性が投票しているから。

いずも おくに
出雲の阿国は京都で歌舞伎踊りを始めるが、彼女が当時の京都(現在の京都市内)で見ることが可能であったものを、次のア～エから1つ選び、記号で答えなさい。(島根改)

ア



慈照寺の銀閣

イ



唐招提寺の鑑真和上像

ウ



東大寺南大門の金剛力士像

エ



平等院鳳凰堂

※最初に「出雲の阿国」が何時代に活躍した人物かを特定する。




桃山文化 (安土桃山時代)

※次にア～エがどの時代のものかを特定する。

- ア 銀閣は足利義政が建てた別荘・・・京都にある建物 (室町時代)
- イ 鑑真が建てた唐招提寺・・・・・・奈良にある建物 (奈良時代)
- ウ 金剛力士像は運慶、快慶による作・・・奈良にある建物 (鎌倉時代)
- エ 藤原頼通が建てた平等院鳳凰堂・・・京都にある建物 (平安時代)

<解答> ア

右の絵は、江戸時代の大阪に置かれた蔵屋敷の様子を表している。各大名はどのような目的で蔵屋敷を置いたか。次の二つの語句を用いて、簡潔に説明せよ。 〈 年貢米や特産物 貨幣 〉 [栃木]



蔵屋敷に領国内の年貢米や特産品を集めて、それらを売って貨幣にかえるため。(貨幣を得るため)

※指定語句は必ず使用すること。

「蔵屋敷」に関する問題は出題率が高いのでまとめておこう。

右の写真は、1932(昭和7)年におきたある事件を報じた新聞記事の一部である。この事件がもたらした影響を、次の二つの語句を用いて、簡潔に説明せよ。 〈 政党内閣 軍部 〉 [香川]



政党内閣が終わり、軍部の発言力が強くなった。

※この事件は1932年におきた「五・一五事件」である。
海軍の青年将校らが首相官邸や警視庁、日本銀行などを襲撃した。
1924年から続いた政党内閣が終わりを告げた事件。

20世紀に入ると、すべての人が豊かに生きるための権利として、社会権が多くの国の憲法に定められるようになった。その理由を次の二つの語句を用いて、簡潔に説明せよ。 〈 資本主義 経済的不平等 〉

[栃木]

資本主義の発達にともない、経済的不平等が拡大し、社会問題になったため。

※社会権は、20世紀に入ってから確立された権利なので「20世紀的権利」とも言われている。