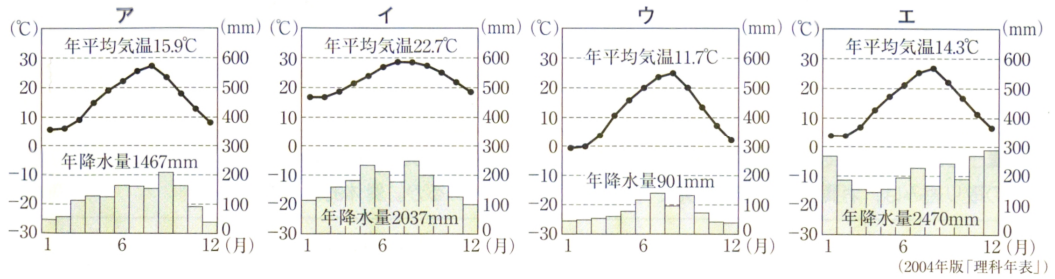


資料を使った問題

例題 次のア～エのグラフは、長野、東京、金沢、^{なほ}那覇のいずれかの都市の気温と降水量の変化を表している。これらのうち、長野市の気温と降水量の変化を表しているものはどれか。記号で答えなさい。



STEP 1

STEP 2

STEP 3

略年表を見て、1から5までの問いに答えなさい。

年代	できごと
1543	種子島に鉄砲が伝来する……………A
1639	鎖国が完成する……………B
1858	日米修好通商条約が結ばれる……………C
1904	日露戦争がおこる……………D
1945	ポツダム宣言を受諾する……………E
1951	サンフランシスコ平和条約が結ばれる……………F

1 Aについて、鉄砲を伝えたのはヨーロッパのどの国の人か。

2 ㉑の時期において徳川家康のおこなった貿易政策とその影響について、「朱印状」と「日本町」の二つの語を用いて簡潔に書きなさい。

3 次の文中の□に当てはまる人物はどれか。

Cの後、大老の□は尊皇攘夷そんのうじょういをとなえる大名や公家くげ、武士を処罰したが、かえって幕府に対する反感が強まり、江戸城の桜田門外で殺された。

ア 田沼意次おきつぐ イ 井伊直弼なおすけ ウ 松平定信 エ 水野忠邦

4 Dのころのわが国の様子を述べているのはどれか。

ア 製糸や紡績の官営工場が各地につくられ、殖産興業がはかられた。

イ 問屋制家内工業が発達し、分業による工場制手工業も出現した。

ウ 国家の財政基盤を確立するために、地租改正が実施された。

エ 鉄鋼や造船などの部門を中心に、重工業が発達した。

5 ㉒の時期におけるわが国のできごとはどれか。

ア 日中平和友好条約が結ばれた。 イ 労働組合法が制定された。

ウ 公害対策基本法が制定された。 エ 沖縄が返還された。

略年表を見て、次の1から5までの問いに答えなさい。

- 1 Aについて、次の文中のⅠ、Ⅱに当てはまる語を書きなさい。

この律令により、人々には税や労役ろうえきなど多くの負担が課された。税には、きまった量の稲を納める租、特産物などを納めるⅠ、労役のかわりに布などを納めるⅡがあった。

- 2 ㉔の時期、朝廷の軍を率いて、蝦夷えみしの指導者であるアテルイ(阿弭流為)を降伏させた人物はどれか。

- ア 卑弥呼 イ 坂上田村麻呂
ウ 北条泰時 エ 織田信長

- 3 図は、㉖の時期につくられた、ある建物の内部である。金や馬などの産物によって栄えた豪族の藤原氏が、浄土へのあこがれから平泉の中尊寺につくったこの建物を何というか。

- 4 ㉗の時期の農業について述べているのはどれか。

ア 土地を深く耕せる備中鍬びっちゅうくわが発明され、干した鱒いわしや油かすが肥料に使われた。

イ 大陸から稲作が伝えられ、稲をたくわえるための高床の倉庫がつくられた。

ウ 生糸の輸出が増加し、養蚕がさかんになり、桑畑が増えた。

エ かんがいの技術や牛馬による農耕がすすみ、米と麦の二毛作が広まった。

- 5 Bについて、この改革で老中水野忠邦が行った、農村を復興させるための政策の内容と、物価を下げるための政策の内容を、次の欄に示した書き出しに続けてそれぞれ簡潔に書きなさい。

[農村を復興させるため]





[物価を下げるため]

年代	できごと
701	大宝律令が定められる……………A
794	都を京都(平安京)に移す……………
935	平将門の乱がおこる……………㉔
1192	源頼朝が征夷大將軍になる……………
1467	応仁の乱がおこる……………
1603	徳川家康が征夷大將軍になる……………㉖
1841	天保の改革がはじまる……………B



図

- 1 秋雄さんは、いろいろな時代の人や物の往来について興味をもち、下のA～Dのようなかるたをつくりました。A～Dを時代の古い順に並べかえ、記号で答えなさい。(山形)

<p>A</p>  <p>ね</p> <p>〈取り札〉</p>	<p>B</p>  <p>と</p>	<p>C</p>  <p>せ</p>	<p>D</p>  <p>あ</p>
<p>ね</p> <p>年貢米 保管していた 蔵屋敷</p> <p>〈読み札〉</p>	<p>と</p> <p>唐からの 宝物も入れた 正倉院</p>	<p>せ</p> <p>西洋の 文化を伝えた 南蛮人</p>	<p>あ</p> <p>合い札を 使って始めた 勘合貿易</p>

STEP 1

STEP 2

STEP 3

6

図2は、東京都、新潟県、長野県、愛知県の、面積、人口、米の生産量、漁獲量、工業生産額を示している。愛知県に当てはまるのはどれか。

	面積	人口	米の生産量	漁獲量	工業生産額
ア	13585km ²	220万人	22.9万t	0.4万t	70944億円
イ	5157	696	16.3	10.4	346041
ウ	12582	247	65.5	5.1	47390
エ	2187	1191	0.1	13.7	183877

図2 「住民基本台帳人口要覧」、「農林水産統計速報」ほかにより作成

図2は、栃木県と群馬県の農業に関するさまざまな統計(2005年)をまとめたものである。図2から読みとれることを正しく述べているのはどれか。

県名	総面積	耕地面積	総人口	農業就業人口	農家総数	農業総産出額
栃木県	6408(km ²)	1300(百ha)	2017(千人)	96(千人)	715(百戸)	2741(億円)
群馬県	6363	785	2024	72	625	2200

図2 「県勢」ほかにより作成

- ア 栃木県は群馬県より、総面積に占める耕地面積の割合が低い。
- イ 栃木県は群馬県より、総人口に占める農業就業人口の割合が高い。
- ウ 栃木県は群馬県より、農家一戸あたりの耕地面積が狭い。
- エ 栃木県は群馬県より、農業就業者一人あたりの農業総産出額が多い。

右の表は、1970年から10年ごとの、勤労者1世帯あたりの消費支出額と消費支出の費目別割合を示している。表から読み取れることを正しく述べているものを、次のア～エから1つ選び、記号で答えなさい。

(栃木)

	消費支出額 (月平均)	食料費	住居費	光熱・ 水道費	被服・ <small>はきもの</small> 履物費	交通・ 通信費	教育費	教 養 娯楽費	その他
1970年	82,582円	32.2%	5.3%	4.1%	9.3%	5.5%	2.7%	9.2%	31.7%
1980年	238,126	27.8	4.7	5.3	7.5	8.5	3.6	8.5	34.1
1990年	331,595	24.1	5.0	5.1	7.2	10.1	5.1	9.6	33.8
2000年	340,977	22.0	6.4	6.2	5.0	12.8	5.3	9.9	32.4

(「国民生活白書」)

ア 消費支出額は、1970年から2000年の間に、5倍以上に増えた。

イ 2000年の食料費の額は、1970年と比べて少なくなった。

ウ 被服・履物費の割合は、いずれの年も、教育費の割合を上回っている。

エ 1970年と2000年とを比べると、割合が最も増えたのは交通・通信費である。

図2は、秋田県、神奈川県、岐阜県、三重県の、コンビニエンスストア、スキー場、海水浴場の数を示している。三重県に当てはまるのはどれか。

県	コンビニエンス ストア(2004年)	スキー場 (2007年)	海水浴場 (2007年)
ア	3037店	3か所	28か所
イ	655	42	0
ウ	457	1	27
エ	434	43	20

図2 (「県勢」により作成)

8

のぞみ

希望さんが、人工衛星を保有する国について調べたところ、その多くはわが国の主な貿易相手国であることがわかった。そこで希望さんは、このうちの6か国に関して、わが国の主な輸入品について調べ、**図3**にまとめた。さらに、輸入品を大きく二つに分類し、それをもとに、この6か国を**図4**のように分けた。**図3**、**図4**を見て、**Aグループ**と**Bグループ**のそれぞれの特徴を簡潔に書きなさい。

国名	わが国の主な輸入品(金額上位3品目)とわが国の輸入総額(各国ごと)に占める割合(%) (2005年)					
アメリカ	機械類	32.2	航空機類	6.5	精密機械	6.2
オーストラリア	石炭	32.5	鉄鉱石	12.5	液化天然ガス	11.9
カナダ	木材	13.7	肉類	11.9	石炭	8.5
イタリア	衣類	16.1	機械類	13.5	バッグ類	11.2
イギリス	機械類	23.5	医薬品	17.7	自動車	12.5
ブラジル	鉄鉱石	30.3	肉類	18.2	アルミニウム	9.5

Aグループ	Bグループ
アメリカ	オーストラリア
イタリア	カナダ
イギリス	ブラジル

図4

図3 (「日本国勢図会」により作成)

図2は、栃木県と群馬県の農業に関するさまざまな統計(2005年)をまとめたものである。図2から読みとれることを正しく述べているのはどれか。

県名	総面積	耕地面積	総人口	農業就業人口	農家総数	農業総産出額
栃木県	6408(km ²)	1300(百ha)	2017(千人)	96(千人)	715(百戸)	2741(億円)
群馬県	6363	785	2024	72	625	2200

図2 (「県勢」ほかにより作成)

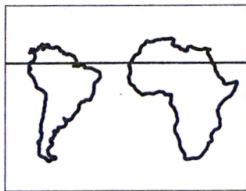
- ア 栃木県は群馬県より、総面積に占める耕地面積の割合が低い。
- イ 栃木県は群馬県より、総人口に占める農業就業人口の割合が高い。
- ウ 栃木県は群馬県より、農家一戸あたりの耕地面積が狭い。
- エ 栃木県は群馬県より、農業就業者一人あたりの農業総産出額が多い。

図2は、石油の国内消費量、輸入量、産出量それぞれの世界上位5か国(2006年)を示したものであり、[]内の数字はそれぞれの国の1人当たりの石油消費量を示している。図2のア、イ、ウ、エはインド、中国、日本、アメリカのいずれかである。このうち日本はどれか。なお、同じ記号は同じ国名を示す。

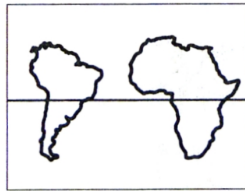
国名	国内消費量	国名	輸入量	国名	産出量
ア	82300万t [2.8t]	ア	53785万t	サウジアラビア	45895万t
イ	29080 [0.2]	ウ	19781	ロシア	45776
ウ	19408 [1.5]	イ	14518	ア	25326
エ	11172 [0.1]	韓国	11989	イラン	20120
ドイツ	10897 [1.3]	エ	11086	イ	18477

図2 (「世界国勢図会」により作成)

次のア、イ、ウ、エのうち、南アメリカ大陸、アフリカ大陸、赤道の位置関係を正しく表しているものはどれか。



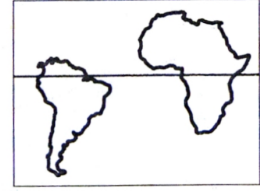
ア



イ



ウ



エ

図3の地形図で示された地域において、台地の部分と低地の部分では、それぞれ農地は主にどのように利用されているか、簡潔に書きなさい。

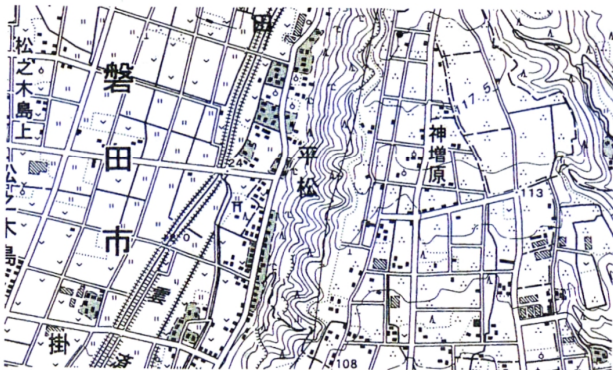


図3 (国土地理院発行2万5千分の1地形図により作成)

下線部⑥について、図3は、日本、イタリア、フランス、イギリスの、全人口に占める高齢者(65歳以上)の割合の推移と今後の予測を示している。図3から読みとれる、4か国に共通する傾向と、ヨーロッパの3か国と比較した日本の特徴を、それぞれ簡潔に書きなさい。

	日本	イタリア	フランス	イギリス
1980年	9.1%	13.1%	14.0%	15.1%
1990年	12.0	15.3	14.0	15.9
2000年	17.3	18.1	16.0	15.9
2010年	22.5	20.6	16.5	16.4
2020年	27.8	23.7	20.3	18.6

図3 (「世界国勢図会」により作成)

図3は、日本の貿易品の輸送方法のうち、航空輸送の占める割合(2006年)を貿易品1kg当たりの価格帯に分けて示している。図4は、日本の輸出入における航空輸送量と船舶輸送量の推移を示している。図3から読みとれる輸出入に共通した航空輸送の特徴と、図4から読みとれる1980年から2008年にかけての航空輸送量の変化の特徴を、「価格」と「増加率」の二つの語を用いて簡潔に書きなさい。

貿易品1kg当たりの価格	輸出における航空輸送の割合(%)	輸入における航空輸送の割合(%)
30000円以上	85.4	93.4
10000～29999円	60.8	75.1
5000～9999円	41.0	51.7
3000～4999円	25.1	36.4
2000～2999円	14.4	28.9
1000～1999円	11.2	18.6

図3 (「国際貿易と投資」により作成)

	1980年 (千t)	1990年 (千t)	2000年 (千t)	2008年 (千t)
航空輸送量	219	620	1188	1314
船舶輸送量	682129	769727	889737	970091

図4 (「日本国勢図会」により作成)

下線部㊸に関して、Aさんは、アメリカ、日本、中国について、石油消費量の変化と、世界の石油消費量に占める割合の変化とを調べ、図2のようにまとめた。図2から読みとれる、アメリカや日本と比較した中国の変化の特徴を、「増加率」と「割合」の二つの語を用いて書きなさい。

国名	1985年		2004年	
	消費量 (百万t)	割合 (%)	消費量 (百万t)	割合 (%)
アメリカ	737	26.2	947	25.0
日本	204	7.2	255	6.7
中国	93	3.3	311	8.2
世界計	2815	100.0	3791	100.0

図2 (「エネルギー・経済統計要覧」により作成)

例題 右の絵は、下のA～Eのどの法令とどの法令が出された間におこったできごとを描いたものか。次のア～エから1つ選び、記号で答えなさい。

(秋田)



(蒙古襲来絵詞)

- ア AとBの間 イ BとCの間
 ウ CとDの間 エ DとEの間
- A 一、武士が二十年の間、実際に土地を支配しているならば、その権利を認める。 (「御成敗式目」より)
- B 一、御家人以外の武士や庶民が御家人から買った土地は、売買後の年数にかかわらず、返さなければならぬ。 (「永仁の徳政令」より)
- C 一、朝倉館のほか、国内に城をかまえてはいけない。 (「朝倉孝景条々」より)
- D 一、この町全体を楽市にお命じになられたからには、いろいろな座の制約や税をかけることなどは、全部免除する。 (「定安土山下町中」より)
- E 一、諸国の百姓が刀やわきざし、弓、やり、鉄砲、そのほかの武具などを持つことは、かたく禁ずる。 (「刀狩令」より)

STEP 1

STEP 2

STEP 3

13

次の表や写真は、洋子さんが社会科の自由研究で、明治から昭和にかけての選挙権の拡大についてまとめたものである。写真は、どの衆議院議員総選挙の、投票のようすを撮ったものであると考えられるか。適切なものを表中のA～Eから1つ選び、記号で答えなさい。また、そのように判断した理由を、簡潔に書きなさい。

(徳島)

	おもな衆議院議員総選挙の実施年	年齢条件	納税条件	総人口に占める有権者の割合
A	1890(明治23)	25歳以上	直接国税15円以上	1.1%
B	1902(明治35)	25歳以上	直接国税10円以上	2.2%
C	1920(大正9)	25歳以上	直接国税3円以上	5.5%
D	1928(昭和3)	25歳以上	なし	19.8%
E	1946(昭和21)	20歳以上	なし	48.7%



STEP 1

STEP 2

STEP 3

いずも おくに
 出雲の阿国は京都で歌舞伎踊りを始めるが、彼女が当時の京都(現在の京都市内)で見ることが可能であったものを、次のア～エから1つ選び、記号で答えなさい。(島根改)

ア



慈照寺の銀閣

イ



唐招提寺の鑑真和上像

ウ




東大寺南大門の金剛力士像

エ



平等院鳳凰堂

右の絵は、江戸時代の大阪に置かれた蔵屋敷の様子を表している。各大名はどのような目的で蔵屋敷を置いたか。次の二つの語句を用いて、簡潔に説明せよ。 〈 年貢米や特産物 貨幣 〉 [栃木]



右の写真は、1932(昭和7)年におきたある事件を報じた新聞記事の一部である。この事件がもたらした影響を、次の二つの語句を用いて、簡潔に説明せよ。 〈 政党内閣 軍部 〉 [香川]



20世紀に入ると、すべての人が豊かに生きるための権利として、社会権が多くの国の憲法に定められるようになった。その理由を次の二つの語句を用いて、簡潔に説明せよ。 〈 資本主義 経済的不平等 〉 [栃木]

[Empty box for answer]